

Küsimused 8. klassile

Nimi

Kool

Geograafiaõpetaja.....

1. Millise teguri mõjul vahetuvad Austraalias loodusvööndid läänest-itta, Aafrikas aga põhjast lõunasse? 2punkti

Austraalias

Aafrikas

2. USA Washingtoni osariigis laiuvad lopsakad niisked okasmetsad. Puudest domineerivad nuld, ebatsuugad, tsuugad, seederännid. Leidub sekvoiasalusid. Puudealuses hämaras niiskuses kasvab sõnajalg ja samblaid, puudel ripuvad samblikud. Tihti nimetatakse neid metsi parasvöötme vihmametsadeks.

Kirjelda täpsemalt nende metsade geograafilist asukohta.

4punkti

.....
.....

Milliste tegurite mõjul on tekkinud sealne kliima?

1).....

2).....

3).....

3. Millist aastaega on kujutatud juuresoleval kaartskeemil? Selgita, mille põhjal seda järeldad 3punkti

.....

Iseloomusta ilmastikku Indias sellel aastajal

.....
.....

4. Millise ilmakaare suunas peavad pöörama palvetamiseks oma näo.

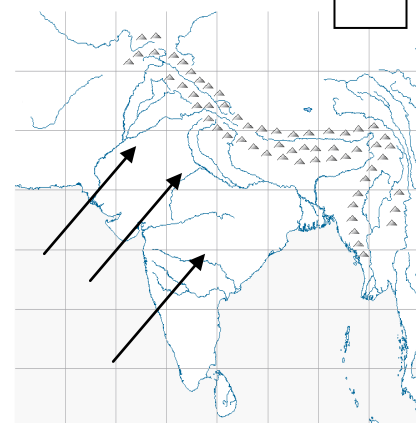
Istanbuli muhameedlased

Teherani islamiusulised

Jakarta moslemid

Hartumi moslemid

2punkti



5. Põhjenda järgmist väidet:

Vahemereses kliimas vahelduvad aasta jooksul füüsikalise ja keemilise murenemise ülekaal.

.....
.....

2punkti

6. Mis on Sahel?

1punkt

.....
.....
.....



Märgi Aafrika kaardile Saheli asukoht.

1punkt

Märgi kaardile, kus on päike seniidis 23. septembril.

1punkt

Miks esineb Saheli piirkonnas näljahädasid?

2punkti

.....
.....
.....

Miks ei läbi Aafrikas vihmametsavöönd mandrit?

2punkti

.....
.....
.....

7. Maailmas elab veel palju rahvaid, kes tegelevad oma traditsiooniliste tegevusaladega ja seetõttu sõltuvad tugevalt loodusoludest. Lisa tabelisse fakte nende rahvaste kohta.

6punkti
a`0,5p

Rahvas	Loodusvöönd	Riigid	Tegevusalad
Masaid			
Evengid			
Pügmeed			
Innuitid			

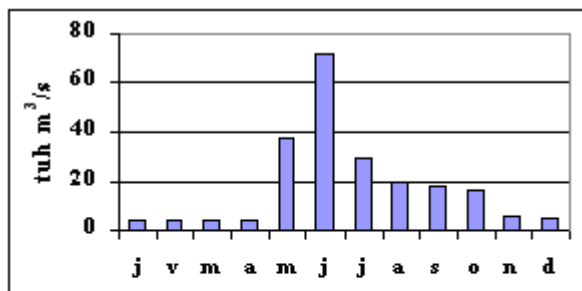
8. Miks on rohtlates kujunenud kõige viljakamad mullad?

3punkti

- 1)
- 2)
- 3)

9. Leiale igale hüdrograafiale õige jõgi. Põhjenda iga otsust!

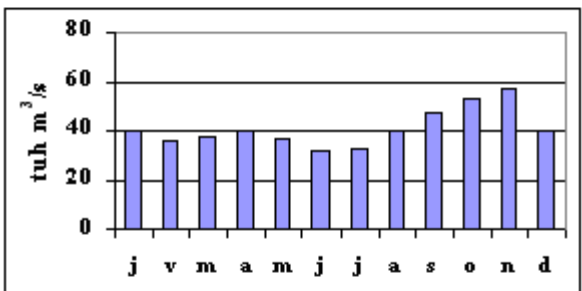
Jõed: Kongo, Jenissei, Ganges



Jõgi

Põhjendus:

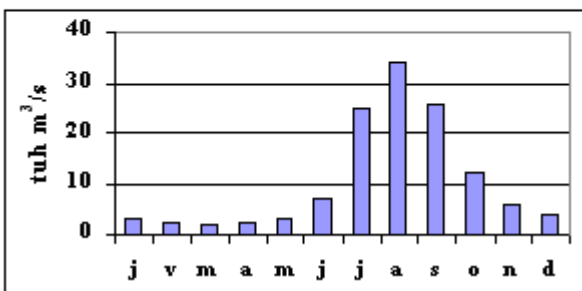
.....



Jõgi

Põhjendus:

.....



Jõgi

Põhjendus:

.....

10. Leia järgmistele geograafilistele kohtadele võimalikult täpne ühine nimetaja.

5 punkti

- 1) Santorini, Island, Kuriilid, Mariaanid
- 2) Egiptus, Venemaa, Türgi
- 3) Oder, Sava, Rio Grande, Amuur
- 4) Gabon, Indoneesia, Filipiinid, Kamerun
- 5) Assali järv, Surnumeri, Kaspia meri, Eyre järv

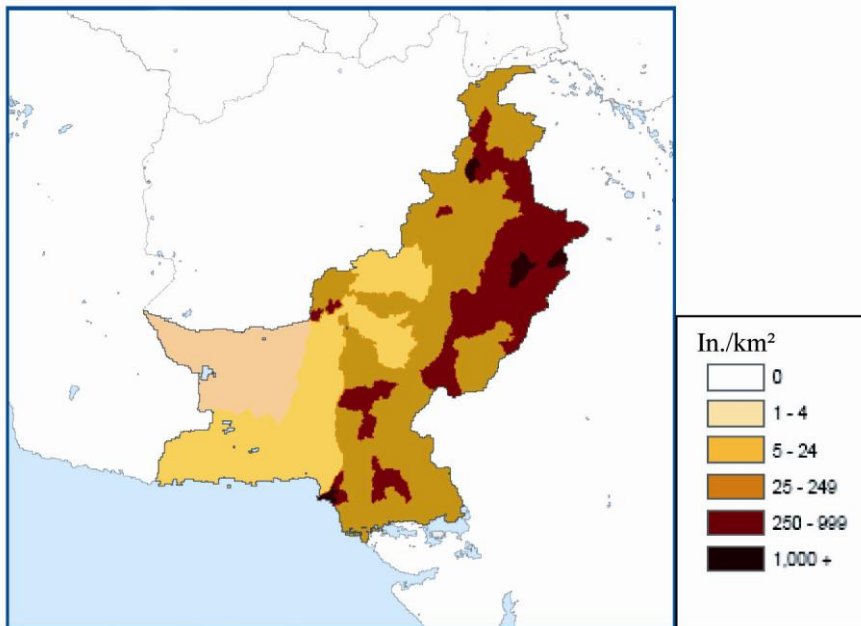
11. Nimeta kaks loodusvööndit, kus inimtegevus on loodusliku taimkate peaaegu hävitanud.

4punkti

Loodusvöönd	Miks on inimene selles vööndis loodusliku taimkate hävitanud?
1.	
2.	

12. Mis riigi rahvastiku tiheduse kaart see on ?

1punkt



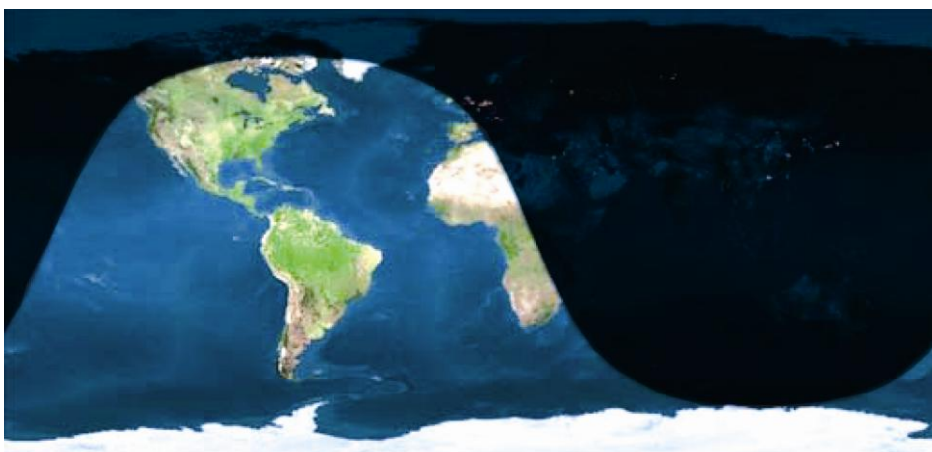
4punkti

Põhjenda rahvastiku paiknemist selles riigis

Tihedalt asustatud alad ja põhjendus	Hõredalt asustatud alad ja põhjendus
1)	1)
2)	2)

13. Millisel kuupäeval on pildistatud satelliidi foto?

1punkt



- a) 6. juuli
- b) 6. oktoober
- c) 6. jaanuar
- d) 6. aprill

2punkti

Põhjenda oma vastust

.....

Kokku 52 punkti